

Kooli nimi: \_\_\_\_\_

Töötuba VARIA ÜI. Nr. 1

1. Mida tähendavad järgmised lühendid? 1 punkt

1 tl - ..... 1 sl - .....

1 dl - ..... 1 kl.....

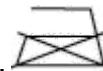
2. Mida nimetatakse eelarveks? 0,5 punkti

.....

3. Mis on toiteväärtus? 0.5 punkti

.....

4. Kuidas hooldada toodet, millele on märgitud järgmised tootehooldustingmärgid? 1,5 punkti



3. Mida tähendavad pakendil märgitud „kõlblik kuni“ ja „parim enne“? 1 p

„kõlblik kuni“ – .....

„parim enne“ – .....

4. Mida tähendab pastöriseerimine? 0,5 punkti

.....

Allikas: .....

.....1 punkt

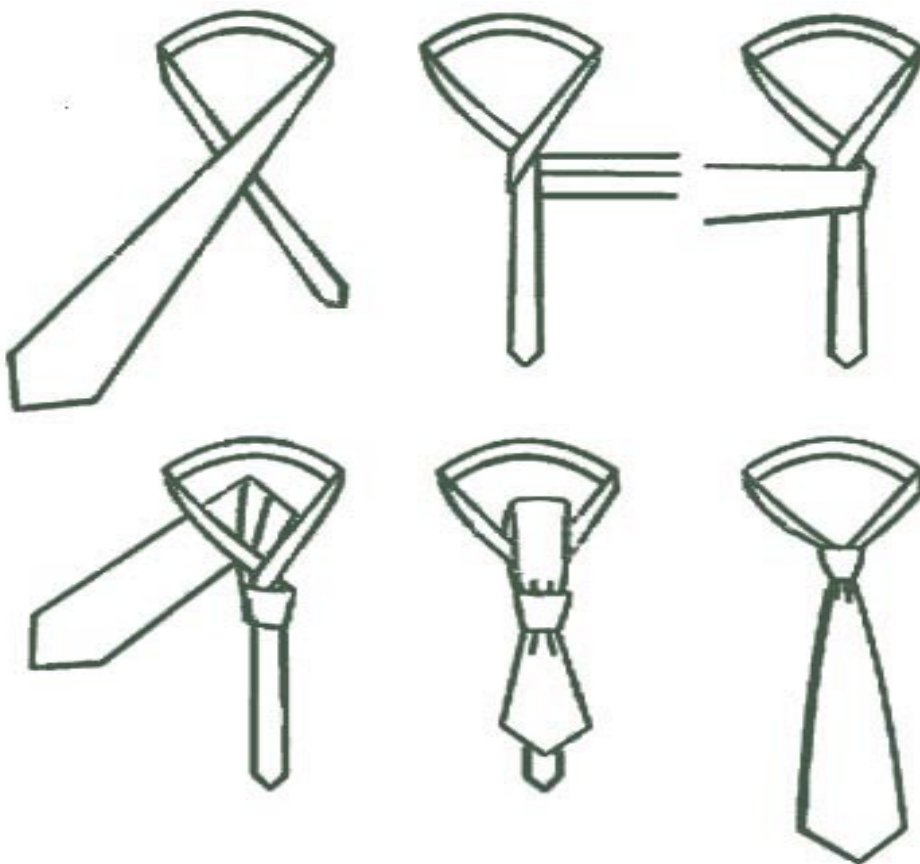
KOKKU PUNKTE 6

Kooli nimi: \_\_\_\_\_

## Töötuba VARIA ÜI. Nr. 2

Korrektse riietuse juurde kuulub ka lips. Palun tehke laual olevale lipsule lipsusõlm antud õpetuse järgi ja andke see koos teiste ülesannete lahendustega ära.

**2 punkti**



Allikas: ..... 1 punkt

**KOKKU PUNKTE: 3**

Kooli nimi: \_\_\_\_\_

**Töötuba VARIA ÜI. Nr. 3**

**1. Millise liitvabariigi pealinna saab paigutada noodijoontele tähtnimedes? 1 punkt**

.....

**2. Millistel riikidel on rahvuslilleks orhidee? 2 punkti**

.....

**3. Riigi tähtsaim sümbol on lipp. Millisel riigil on Eesti lipuga sarnased värvid? 0,5 punkti**

.....

**4. Millise riigi rahvuslinnuks on laululuik? 0,5 punkti**

.....

**5. Mida tähendavad järgmised dünaamika märgid? 0,5 punkti**

ppp- .....

ff- .....

**6. Mida tähendavad järgmised tempod? 0,5 punkti**

allegretto .....

largo.....

**Allikas: .....**

.....1 punkt

**KOKKU PUNKTE 6**

**Võistkonna nimi:** \_\_\_\_\_

**Töötuba VARIA ÜI. Nr. 4**

**1. Täida lüngad õigesti. Iga õige lünk 0,25 punkti** **2 punkti**

Õhku vajavad kõik ..... Inimene võib õhuta elada  
vaid ..... Inimesel kulub päevas hingamiseks  
..... Sõiduauto kulutab 100 km läbimiseks  
..... Umbes sama palju hapnikku annab ööpäevas  
..... Tänu ..... püsib õhk puhas. Kõige  
paremat joogivett saadakse ..... Päevas kulub inimesel  
umbes .....vett.

**2. Mis on põlemine?** **0,5 punkti**

.....

.....

**3. Mida tähendavad järgmised mõisted?** **1 punkt**

Prügi - .....

Jäätmekäitlus - .....

Kohtsortimine- .....

Korduskasutus - .....

**4. Mida põhjustab pidev müra?** **0,5 punkti**

.....

**Allikas:** .....

..... **1 punkt**

**KOKKU PUNKTE 5**

Kooli nimi: \_\_\_\_\_

**Töötuba VARIA ÜI. Nr. 1**

**5. Mida tähendavad järgmised lühendid? 1 punkt**

1 tl - teelusikas    1 sl - supilusikas

1 dl - detsiliiter    1 kl - klaas

**6. Mida nimetatakse eelarveks? 0,5 punkti**

Eelarveks nimetatakse tulude ja kulude planeeritud jaotust.

**7. Mis on toiteväärtus? 0,5 punkti**

Toitainete sisaldus toidus. Kõrge toiteväärtus on toidul, milles on palju erinevaid toitaineid.

**8. Kuidas hooldada toodet, millele on märgitud järgmised tootehooldustingmärgid? 1,5 punkti**



kõrgeim lubatud triikimistemperatuur 110 C



valgendamine keelatud



pesta ettevaatlikult märgitud temperatuuril



masinkuivatus keelatud



keemiline puhastus keelatud



triikimine keelatud

**9. Mida tähendavad pakendil märgitud „kõlblik kuni“ ja „parim enne“? 1p**

„kõlblik kuni“ – pärast märgitud kuupäeva on see toiduaine tarvitamiskõlbmatu

„parim enne“ – pärast märgitud kuupäeva võib seda toiduainet süüa, kuid selle kvaliteet on madalam

**10. Mida tähendab pastöriseerimine? 0,5 punkti**

Toiduaine kiire kuumutamine 72-74 C, et hävitada bakterid

**Allikas:** A.Pink „Kodundus 4.-6.klassile“, OÜ Saarakiri, 2008, lk.10; 94-96; 48; 102,103

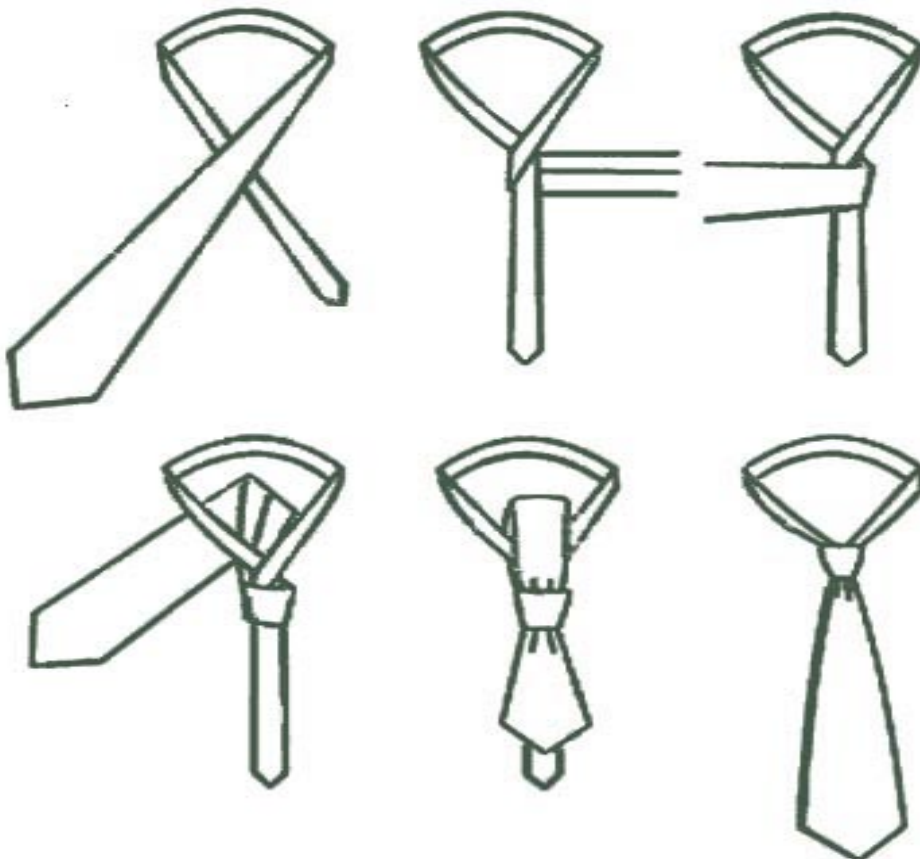
punkt  
KOKKU PUNKTE 6

Kooli nimi: \_\_\_\_\_

## Töötuba VARIA ÜI. Nr. 2

Korrektse riietuse juurde kuulub ka lips. Palun tehke laual olevale lipsule lipsusõlm antud õpetuse järgi ja andke see koos teiste ülesannete lahendustega ära.

2 punkti



Allikas: Tööleht

1 punkt

**KOKKU PUNKTE: 3**

**Kooli nimi:** \_\_\_\_\_

**Töötuba VARIA ÜI. Nr. 3**

**1. Millise liitvabariigi pealinna saab paigutada noodijoontele tähtnimedes? 1 punkt**

Etiopia- Addis Abeba

**2. Millistel riikidel on rahvuslilleks orhidee? 2 punkti**

Argentiina, Brasiilia, Columbia, Ecuador, Mehhiko, Panama, Sri Lanka, Venezuela

**3. Riigi tähtsaim sümbol on lipp. Millisel riigil on Eesti lipuga sarnased värvid? 0,5 punkti**

Botswana

**1. Millise riigi rahvuslinnuks on laululuik? 0,5 punkti**

Soome

**2. Mida tähendavad järgmised dünaamika märgid? 0,5 punkti**

ppp- piano pianissimo- ülivaikselt

ff- fortissimo- väga valjusti

**4. Mida tähendavad järgmised tempod? 0,5 punkti**

allegretto- kergelt, vallatult

largo- laialt, väga aeglaselt

**Allikas:** A ja O taskuteatmik, Eesti Entsüklopeediakirjastus 2003, lk. 110; 178; 220; 420, 422. **1 punkt**

## KOKKU PUNKTE 6

Võistkonna nimi: \_\_\_\_\_

### Töötuba VARIA ÜI. Nr. 4

**1. Täida lüngad õigesti. Iga õige lünk 0,25 punkti** **2 punkti**

Õhku vajavad kõik **elusolendid**. Inimene võib õhuta elada vaid **minuteid**. Inimesel kulub päevas hingamiseks **üle 9 kg õhku**. Sõiduauto kulutab 100 km läbimiseks **23 kg õhku**. Umbes sama palju hapnikku annab ööpäevas **1 hektar metsa**. Tänu **taimedele** püsib õhk puhas. Kõige paremat joogivett saadakse **põhjaveest**. Päevas kulub inimesel umbes **2 kilogrammi** vett.

**1 Mis on põlemine?** **0,5 punkti**

Põlemiseks nimetatakse aine ühinemist hapnikuga. Põlemiseks vajalik hapnik saadakse õhust ja põlemise käigus tekivad süsihappegaas ja vesi.

**2 Mida tähendavad järgmised mõisted?** **1 punkt**

Prügi – kasutamata jäänud jäätmed ja praht, mis viiakse prügilasse

Jäätmekäitlus – jäätmete kogumine, vedu, kasutamine, töötlus ja lõppkõrvaldamine

Kohtsortimine- jäätmete sortimine tekkekohas

Korduskasutus – toote korduv kasutamine algotstarbeks

**3 Mida põhjustab pidev müra?** **0,5 punkti**

Pidev müra põhjustab stressi, väga tugev heli võib tekitada osalise või täieliku kurdistumise.

Allikas: „Mina ja keskkond“ keskkonnaõpetuse töövihik 3.-6.klassile, Kuma, 2003, lk.5, 10, 11, 14, 18, 54. **1 punkt**

## KOKKU PUNKTE 5